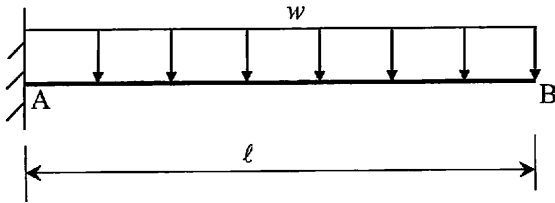
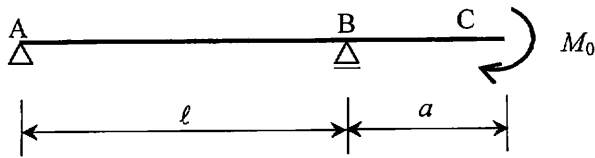


22 単位荷重法を用いて次のはりのたわみやたわみ角を求めよ。

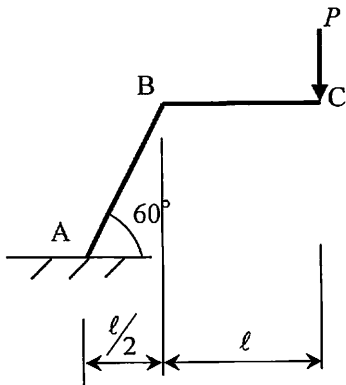
(1) δ_B, θ_B ($EI = \text{const}$)



(2) δ_C, θ_C ($EI = \text{const}$)



(3) 点 C の鉛直変位 δ_{CV} , 点 C の水平変位 δ_{CH} ($EI = \text{const}$)



(4) 支点 D の水平変位 δ_{DH} ($EA = \text{const}$)

