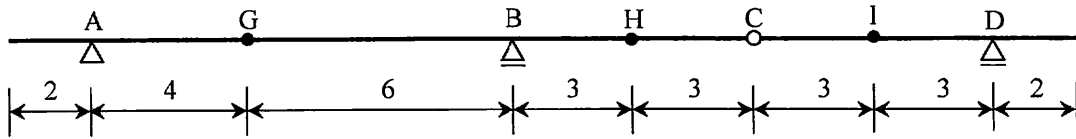


7 6 (1) のトラスの部材力 FG , FB , BG , BC , GC を断面法で求めよ。

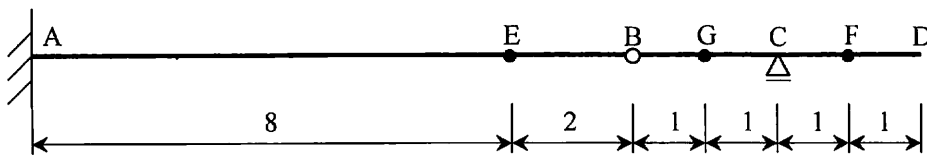
8 次の各はりにおいて支持された反力や断面力の影響線を描け。(寸法はメートル単位)

(1)



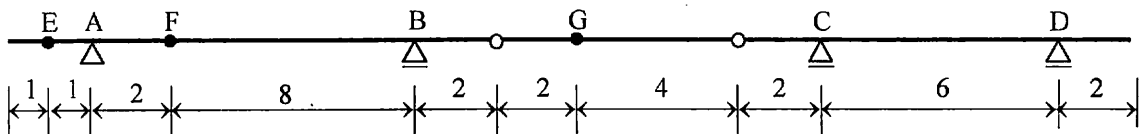
V_A -line, V_B -line, S_G -line, M_G -line
 S_H -line, M_H -line, S_I -line, M_I -line

(2)



V_A -line, M_A -line, S_E -line, M_E -line
 S_G -line, M_G -line, S_F -line, M_F -line
 V_C -line

(3)



V_A -line, V_B -line, V_C -line, V_D -line
 S_E -line, M_E -line, S_F -line, M_F -line
 S_G -line, M_G -line