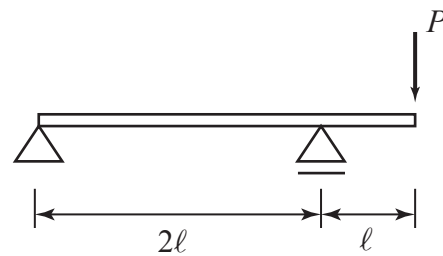
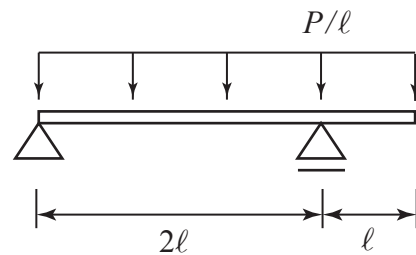


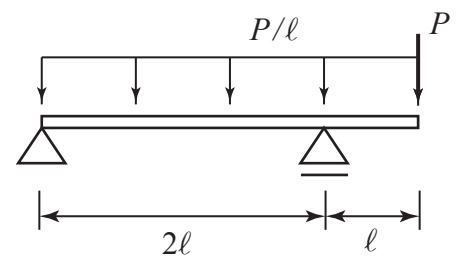
1. 右図の構造の反力と内力を求め図示せよ.



2. 右図の構造の反力と内力を求め図示せよ.



3. 右図の構造の反力と内力を求め図示せよ.



4. 今日の講義に関する質問や意見などを自由に書いてください.
5. 1と2と3の結果を比較して, 考えられることを書きなさい.